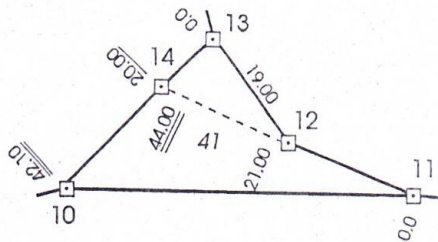




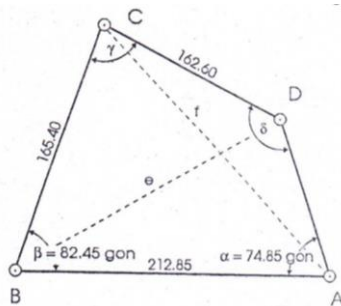
## Aufgaben 08.02.21 – 12.02.21

### Berechnungen im allgemeinen Dreieck

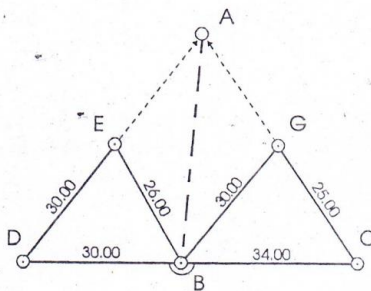
- Die orthogonalen Absteckelemente von 12, 13 und 14 auf 10-11 sind mit Hilfe der Trigonometrie zu ermitteln. Ferner ist die Fläche von Flurstück 41 zu berechnen.



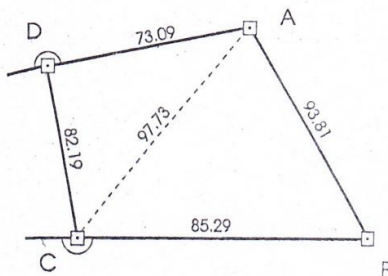
- Zu berechnen sind A-D, e, f, y und  $\delta$ .



- Die Strecke A-B ist zweimal zu berechnen. Die Ergebnisse sind zu mitteln.



- Die Entfernung von A und von B zu dem Schnittpunkt S der Verlängerungen von A-D und B-C sind zu berechnen.



Für Rückfragen nutzen Sie bitte Lernsax oder schreiben Sie eine E-Mail an [kalisch@bsz-bau-und-technik.de](mailto:kalisch@bsz-bau-und-technik.de) ! Abgabe bis 12.02.2021! Angebot Videokonferenz Donnerstag, den 11.02.2021 10 Uhr. Weitere Informationen auf [www.lernsax.de](http://www.lernsax.de) . Viel Erfolg!