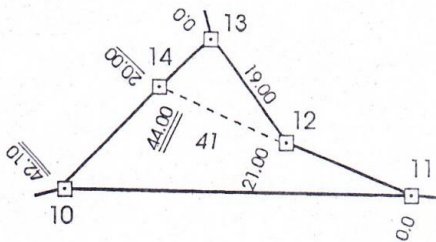




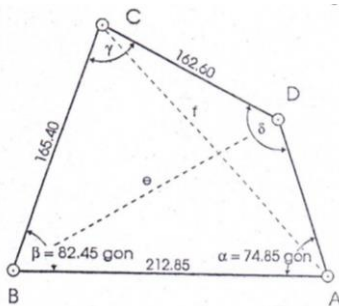
Aufgaben 04.01.21 – 08.01.21

Berechnungen im allgemeinen Dreieck

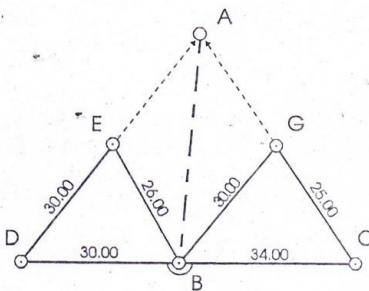
- Die orthogonalen Absteckelemente von 12, 13 und 14 auf 10-11 sind mit Hilfe der Trigonometrie zu ermitteln. Ferner ist die Fläche von Flurstück 41 zu berechnen.



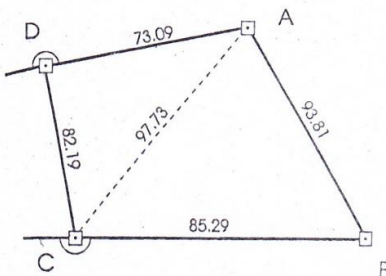
- Zu berechnen sind A-D, e, f, y und δ .



- Die Strecke A-B ist zweimal zu berechnen. Die Ergebnisse sind zu mitteln.



- Die Entfernung von A und von B zu dem Schnittpunkt S der Verlängerungen von A-D und B-C sind zu berechnen.



Für Rückfragen nutzen Sie bitte Lernsax oder schreiben Sie eine E-Mail an kalisch@bsz-bau-und-technik.de ! Abgabe bis 08.01.2020!

Viel Erfolg!